






II. Číslo a číslice 1 až 5



3 	5 	2 	4 	1 
5	5	5	5	5



[M 1/1, str. 6–11] Číslo a číslice 1 až 5

[1] Nakreslete tolik stejných geometrických tvarů, kolik vám udává číslice. Potom dokreslete jinou barvou tolik geometrických tvarů, aby jich bylo celkem 5. Spočítejte, kolik tvarů jste dokreslili. [2] Vyznačte, kudy skákají žáby, když postupují v pořadí od největšího čísla k nejmenšímu.