





- 6) Přiřaď jednotlivé hmotnosti tělesům, která Jean servíruje, paní s časopisem, čuníkovi a kolečku písku a doplň údaje do obrázků:

1,1 q; 1 500 g; 11,5 kg; 7 g; 200 kg; 35 kg

 <p>m ledu = 11,5 kg</p> <p>m kostky = 1 500 g</p>	 <p>m kostky cukru = 7 g</p>
 <p>m paní = 1,1 q</p>	 <p>m kolečka písku = 35 kg</p> <p>m vepře = 200 kg</p>

- 7) Vyhledej na internetu hmotnosti planet a seřaď planety od nejtěžší k nejlehčí:

<http://cs.wikipedia.org>

- 8) Doplň převodní tabulku:

těleso	kg	g	q	dag
jízdní kolo	12,5	12 500	0,125	1 250
čmelák	0,005	5	0,000 05	0,5
cihla	2,5	2 500	0,025	250
pytel brambor	60	60 000	0,6	6 000